

«ЭКОНОМИЧЕСКАЯ ТЕОРИЯ»

ВАРИАНТЫ КОНТРОЛЬНЫХ РОБОТ И МЕТОДИЧЕСКИЕ

УКАЗАНИЯ

для студентов заочного факультета

(1 семестр)

Вариант 1

1. Предмет и метод экономической теории.
2. Система национальных счетов и ее показатели.
3. Определите, верное или неверное каждое из следующих утверждений и объясните ответ:
 - 1) экономику (как производство благ) от хрематистики (накопление денег) во-первых отделил Ксенофонт;
 - 2) предмет экономической теории оставался неизменным на протяжении развития этой науки;
 - 3) субъектами экономической системы являются лишь домохозяйства и фирмы;
 - 4) если функция спроса отображается уравнением $D = 10 - 3p$, а функция предложения уравнением $S = 3p - 6$, то равновесная цена на рынке составит 6 грн.;
 - 5) в краткосрочном периоде производства различают постоянные и переменные затраты;
 - 6) на рынке монополистической конкуренции реализуется дифференцированный товар;
 - 7) мультипликатор депозитов (денежный) зависит от нормы процента;
 - 8) фрикционная безработица является добровольной с стороны рабочего;
 - 9) если предельная склонность к потреблению
 - 10) если номинальный ВВП составляет 345 млрд грн., а дефлятор ВВП равняется 1,5, то реальный ВВП составит 230 млрд грн.

Вариант 2

1. Экономические системы и отношения собственности.
2. Совокупный спрос и совокупное предложение. Факторы, на них влияющие.
3. Определите, верное или неверное каждое из следующих утверждений и объясните ответ:
 - 1) традиционной экономической системы не существует на современном этапе развития общества;
 - 2) рыночная экономика характеризуется отсутствием свободы выбора, конкуренции и частной собственности;

- 3) экономический спрос является неплатежеспособной потребностью на товар, который представлен на рынке;
- 4) если за цену 2 грн. Производители предлагали на рынке 300 тыс. ед. продукции, а за цену 3 грн. – 400 тыс. ед., то эластичность предложения складывается 1,5;
- 5) постоянство равновесия на рынке товара анализируются помощью паутинообразной модели;
- 6) если функция совокупных расходов отображена уравнением $TC = 3q^2 + 5q$ (где q – объем производства), то функция переменных расходов выглядит как $VC = 8q^3$;
- 7) факторные доходы представлены заработной платой и прибылью;
- 8) экономический рост измеряется?
- 9) если фактический уровень безработицы в стране составляет 14 а естественный уровень определенно на уровне 6% , то фактический ВВП отстает от потенциального на 15%.
- 10) инфляция всегда является неожиданной.

Вариант 3

1. Модель кругооборота продукта, ресурсов и доходов.
2. Макроэкономическое равновесие в классической модели.
3. Определите, верное или неверное каждое из следующих утверждений и объясните ответ:
 - 1) выдающимся представителем кардиналистской школы маржинализма является К. Визер;
 - 2) создание экономической модели требует включения у нее как можно большего количества признаков их характеристик;
 - 3) разгосударствление является одной из форм приватизации;
 - 4) если за цены 2 грн. Производители предлагали на рынке 300 тыс. единиц продукции, а за цены 3 грн. - 400 тыс. единиц, то эластичность предложения складывается 0,6 (6);
 - 5) наиболее ликвидным финансовым активом являются облигации государственного заимствования;
 - 6) если номинальная заработная плата равняется 1500 грн., а текущий уровень инфляции представляет 15 то реальная заработная плата составляет 1350 грн.;
 - 7) учетная ставка – ставка проценту, за которым коммерческие банки кредитуют Центральный банк;
 - 8) кривая Филлипса демонстрирует зависимость между уровнем инфляции и безработицы;
 - 9) фритредерство между другого допускает наличие жесткого регулирования внешнеторговых операций;
 - 10) экспортная пошлина увеличивает возможности страны экспортировать.

Вариант 4

1. Спрос и закон спроса. Факторы, влияющие на спрос.
2. Макроэкономическое равновесие в кейнсианской модели.
3. Определите, верное или неверное каждое из исследующих утверждений и объясните ответ:
 - 1) научная абстракция является методом исследования, который используется лишь в экономической теории;
 - 2) товар является продуктом человеческого труда, который предназначен для обмена на рынке;
 - 3) аренда вызывает изменение владельца объекта собственности;
 - 4) ценовая эластичность спроса показывает степень чувствительности спроса к изменению дохода потребителя;
 - 5) если при цене 1 грн. производители предлагали на рынке 100 тыс. единиц продукции, а при цене 5 грн. – 800 тыс. единиц, то эластичность предложения составляет 4;
 - 6) предельные издержки рассчитываются по формуле $MR = \Delta TR / \Delta Q$;
 - 7) при условии ежегодного темпа инфляции 10% цены согласно «правилу 70» удвоятся через 10 лет;
 - 8) в краткосрочном периоде между инфляцией и безработицей существует обратная зависимость;
 - 9) кривая Лаффера иллюстрирует зависимость между ставкой налога и налоговыми поступлениями в государственный бюджет;
 - 10) страна, которая экспортирует больше товаров и услуг, чем импортирует, имеет отрицательное сальдо торгового баланса.

Вариант 5

1. Ценовая эластичность спроса. Факторы ценовой эластичности спроса.
2. ВВП и его измерение. Потенциальный, номинальный и реальный ВВП.
3. Определите, верное или неверное каждое из исследующих утверждений и объясните ответ:
 - 1) доминирование натурального производства и общинной собственности являются признаками рыночной экономики;
 - 2) главными свойствами товара являются стоимость и себестоимость;
 - 3) смешанных форм собственности не существует;
 - 4) к основным факторам производства относят труд, землю, капитал и предпринимательские способности;
 - 5) если функция спроса отображается уравнением $D = 12 - 4p$, а функция предложения уравнением $S = 3p - 3$, то равновесная цена на рынке составит 5 грн.;
 - 6) инфраструктура рынка состоит из совокупности вспомогательных организаций, учреждений, посредников, которые ускоряют продвижение товаров на рынках;
 - 7) кредитование в банковской системе происходит на основе возвращения,

платности;

8) если естественный уровень безработицы составляет 6% фактический – 16% уровень фрикционной безработицы равняется 3% то циклическая и структурная безработица составляет, соответственно, 10% и 3%.

9) фискальная политика государства осуществляется с помощью операций на открытом рынке и нормы резервирования;

10) признаком неразвитости экономики, среди прочего, является сырьевая ориентация экспорта.

Вариант 6

1. Предложение и закон предложения. Факторы, влияющие на предложение.

2. Потребление, сбережение, инвестиции и их взаимосвязь.

3. Определите, верно или неверно каждое из следующих утверждений и объясните ответ:

1) эксперимент является методом исследования, часто используемым в экономической науке;

2) термин «невидимая рука» был введен в научный оборот и впервые объяснен Д. Рикардо;

3) товарное производство возникло в результате общественного разделения труда;

4) отношения собственности присущи только рыночной экономике;

5) ограниченность ресурсов в экономическом смысле обусловлена неограниченностью человеческих потребностей;

6) если функция совокупных расходов отражена уравнением $TC = 3q^2 + 5q$ (где q - объем производства), то функция переменных издержек выглядит как $VC = 3q^2 + 5q$;

7) НБУ не вмешивается в текущую деятельность коммерческих банков;

8) если потребительская корзина в текущем периоде стоит 800 грн., а в предыдущем её стоимость составляла 720 грн., то в стране произошла инфляция в 10%;

9) операции на открытом рынке означают политику правительства по регулированию цен на рынках страны;

10) налоги являются неотъемлемым условием выполнения государством своих функций.

Вариант 7

1. Теория потребительского поведения.

2. Экономический цикл и его фазы.

3. Определите, верно или неверно каждое из следующих утверждений и объясните ответ:

1) ограниченность ресурсов не является проблемой для рыночной экономики;

- 2) теория прибавочной стоимости принадлежит Ф. Энгельсу;
- 3) деньги являются товаром-эквивалентом, стихийно выделившийся из многих других;
- 4) существует два типа собственности - трудовая и общественная;
- 5) если цена товара выросла с 1 до 8 грн., а спрос снизился на 20%, то эластичность спроса по цене составит 1,5;
- 6) экономическая прибыль обычно меньше, чем бухгалтерская;
- 7) если валовые инвестиции в экономику составляют 300 млн грн., потребление осуществляется на уровне 450 млн грн., государственные расходы - 150 млн грн., А экспорт превышает импорт на 60 млн грн., То ВВП равен 750 млн грн .;
- 8) наиболее критической фазой экономического цикла является депрессия
- 9) фискальная и монетарная политика не связаны между собой и не имеют учитывать влияние друг друга на экономику;
- 10) фритредерство означает свободную, без ограничений, торговлю между государствами.

Вариант 8

1. Нормальная, бухгалтерская и экономическая прибыль.
2. Теория цикличности и спадов. Причины кризисных колебаний.
3. Определите, верно или неверно каждое из следующих утверждений и объясните ответ:
 - 1) потребности человека ограничены, что определено в законе роста потребностей;
 - 2) новые экономические концепции никоим образом не связаны с теми, что существовали от начала развития экономической науки;
 - 3) среди функций денег основными являются мера стоимости, средство обмена и средство накопления;
 - 4) натуральное производство является исторически первой и наиболее простой формой организации общественного производства;
 - 5) если валовые расходы предприятия составляют 200 тыс. грн., валовая выручка - 350 тыс. грн., объем реализованной продукции составляет 50 тыс. единиц, то прибыль на единицу продукции равна 1 грн .;
 - 6) национальный доход - понятие, тождественное национальному богатству;
 - 7) если реальный доход семьи составляет 2700 грн. в месяц, а номинально выплаченный - 3500 грн., то это означает, что имеет место дефляция в 14%;
 - 8) пассивные операции - это совокупность операций, направленных на формирование ресурсов коммерческого банка;
 - 9) бюджетно-налоговая политика направлена непосредственно на регулирование денежной массы в экономике;
 - 10) галопирующая инфляция означает рост цен на 100-1000% в год.

Вариант 9

1. Категории экономических ресурсов. Кривая производственных возможностей.
2. Денежно-кредитная политика и ее инструменты.
3. Определите, верно или неверно каждое из следующих утверждений и объясните ответ:
 - 1) экономическая теория выполняет только познавательную и практическую функции;
 - 2) предельная полезность является понятием теории социализма-утопизма;
 - 3) право пользоваться является правом решать, кто и как будет обеспечивать использование благ;
 - 4) товарное производство может быть простым и расширенным;
 - 5) закон предложения не действует для товаров Гифена;
 - 6) если функция спроса отражается уравнением $D = 24 - 6p$, а функция предложения уравнением $S = 2p - 3$, то равновесное количество на рынке составит 3 единицы;
 - 7) если номинальный процент по кредиту составляет 15%, а инфляция составляет 17%, то банк-кредитор от этого выиграет;
 - 8) к собственным ресурсам банка относят уставный фонд и резервный капитал;
 - 9) если предельная склонность к потреблению составляет 0,3, то при национальном доходе 680 млн грн. населения будет экономить 300 млн грн. ;
 - 10) коэффициент Джини показывает степень дифференциации доходов в стране.

Вариант 10

1. Определение цены и объема производства в условиях совершенной конкуренции. Роль конкуренции в рыночной экономике.
2. Причины и формы безработицы. Проблема безработицы в Украине.
3. Определите, верно или неверно каждое из следующих утверждений и объясните ответ:
 - 1) экономический выбор человека сопровождается альтернативными издержками;
 - 2) экономические системы различаются только по критерию доминирующей формы собственности;
 - 3) «Товар» и «продукт» являются тождественными понятиями;
 - 4) определяющим качеством предпринимателя является склонность к риску;
 - 5) если при цене 1 грн. производители предлагали на рынке 200 тыс. единиц продукции, а при цене 5 грн. - 400 тыс. единиц, то эластичность предложения составляет 2;

6) если ставка процента по вкладу в банковское учреждение составляет 15% годовых, то будущая стоимость вложенных на 2 года 2000 грн. будет 3400 грн.;

7) к активным операциям банка относятся кредитные, гарантийные и комиссионные;

8) по причинам возникновения выделяют инфляцию спроса и инфляцию издержек;

9) к числу глобальных проблем относятся усиление неравномерности мирового экономического развития, рост социальной дифференциации стран, бедность;

10) Украина не является членом Всемирной торговой организации.

Вариант 11

1. Издержки производства в краткосрочном периоде.

2. Определение цены и объема производства в условиях монополии.

Антимонопольная политика: сущность, необходимость.

3. Определите, верно или неверно каждое из следующих утверждений и объясните ответ:

1) физиократы считали, что весь национальный продукт создается в сельском хозяйстве и в торговле;

2) объекты собственности - это средства производства, недвижимость, природные ресурсы, предметы личного потребления, деньги;

3) меновая и потребительная стоимость являются основными внутренними качествами товара;

4) способность товара обмениваться на другие товары потребительной стоимостью товара;

5) эффект Веблена касается товаров-предметов первой необходимости;

6) если функция совокупных расходов отражена уравнением $TC = q^2 + 16$ (где q - объем выпуска), то функция переменных издержек выглядит как $FC = 16 + 2q$;

7) необходимым условием финансовых отношений являются деньги;

8) коммерческий кредит - это денежная форма кредита;

9) если количество безработных составляет 3 млн чел., а количество занятых - 39 млн чел., то уровень безработицы в стране составляет примерно 8,3%;

10) безработица и инфляция являются признаками неравновесия рыночной экономики.

Вариант 12

1. Издержки производства в долгосрочном периоде.

2. Международные экономические отношения: эволюция, виды, современное состояние.

3. Определите, верно или неверно каждое из следующих утверждений и объясните ответ:

- 1) первыми трудовую теорию стоимости начали разрабатывать представители неоклассической школы экономической теории;
- 2) субъектом собственности могут быть индивиды, организации или государство;
- 3) цена товара определяется его стоимостью;
- 4) если цена кофе равна 3 грн. за чашку, а чая - 2 грн., потребитель оценивает предельную полезность кофе в 30 условных баллов и максимизирует удовольствие от приобретения набора из двух товаров, то предельная полезность чая составляет 45 баллов;
- 5) экономические издержки = бухгалтерские издержки + неявные издержки;
- 6) фрикционная и структурная безработица в совокупности составляют циклическую;
- 7) дискреционная и недискреционная политика являются разновидностями бюджетно-налоговой политики;
- 8) рынок ценных бумаг - это часть финансового рынка;
- 9) если ВВП равен 800 млн грн., потребление осуществляется на уровне 330 млн грн., валовые инвестиции в экономику - 370 млн грн., государственные расходы - 120 млн грн., то чистый экспорт составляет 50 млн грн. ;
- 10) Украина стороне интеграционных процессов в мировом хозяйстве.

Вариант 13

1. Банковская система. Функции государственного банка и коммерческих банков.

2. Рыночное равновесие. Равновесная цена, ее функции.

3. Определите, верно или неверно каждое из следующих утверждений и объясните ответ:

- 1) экономические законы носят объективный характер;
- 2) мегаэкономика изучает среди прочего международные экономические отношения;
- 3) деньги не являются товаром;
- 4) если цена товара выросла с 3 до 5 грн., а спрос снизился на 50%, то эластичность спроса по цене составит 0,5;
- 5) ипотечный кредит предоставляется под залог недвижимого имущества;
- 6) предложение денег состоит из наличности, заменителей денег и банковских депозитов;
- 7) простой процент рассчитывается по формуле $P = S (1 + i) N$;
- 8) кривая Филлипса демонстрирует прямую зависимость между уровнем безработицы и темпом инфляции;

9) если фактический уровень безработицы в стране составляет 10%, а естественный уровень определен на уровне 9%, то фактический ВВП отстает от потенциального на 1%;

10) субъектами мирового хозяйства являются государства и их объединения, международные организации.

Вариант 14

1. Рынок труда и уровень заработной платы.

2. Инфляция: причины, измерение, виды, последствия. Проблема инфляции в Украине.

3. Определите, верно или неверно каждое из следующих утверждений и объясните ответ:

1) экономическая категория является теоретическим отражением экономических явлений и процессов;

2) собственность в экономическом смысле является вещью, которой обладают и пользуются;

3) экономическая теория изучает законы рыночной экономики;

4) признаком развитости денежной системы экономики является, среди прочего, состав денежной массы;

5) средние и постоянные издержки составляют совокупные издержки фирмы;

6) если валовые издержки предприятия составляют 250 тыс. грн., валовая выручка - 550 тыс. грн., объем реализованной продукции составляет 10 тыс. единиц, то прибыль на единицу продукции равна 6 грн. ;

7) цена земли не зависит от нормы ссудного процента;

8) если номинальная ставка процента составляет 14%, а уровень инфляции - 10%, то реальная процентная ставка равна 1,4%;

9) акции и облигации выпускаются государством для регулирования совокупного спроса;

10) если доходы потребителей растут, то это вызывает рост совокупного спроса.

Вариант 15

1. Процент, рента, прибыль. Факторы, влияющие на их уровень.

2. Спрос на деньги.

3. Определите, верно или неверно каждое из следующих утверждений и объясните ответ:

1) Меркантилистские концепции отражали интересы промышленной буржуазии;

2) присвоение - это конкретный общественный способ овладения вещью;

3) в административно-командной экономике государственные интересы доминировали над частными;

- 4) если совокупные расходы составляют 300 тыс. грн., постоянные - 100 тыс. грн., объем производства 25 тыс. ед., то средние переменные издержки равны 12 грн .;
- 5) на современных биржах торгуют оптом и в розницу;
- 6) если норма резервирования составляет 4%, то денежный мультипликатор составляет 0,5;
- 7) налоги за объектом налогообложения бывают пропорциональными, поштучными и смешанными;
- 8) кейнсианский отрезок кривой совокупного предложения выглядит как горизонтальная линия;
- 9) человек, потерявший работу в результате спада в экономике, относится к охваченным структурной безработицей;
- 10) если ВВП увеличится с 600 млрд до 700 млрд грн., а дефлятор ВВП вырастет с 125% до 160%, то реальный ВВП не изменится.

Вариант 16

1. Неравенство в распределении доходов. Кривая Лоренца, коэффициент Джини. Государственное регулирование распределения доходов.
2. Предложение денег. Денежные агрегаты.
3. Определите, верно или неверно каждое из следующих утверждений и объясните ответ:
 - 1) практическая функция экономической теории лежит в основе формирования экономической политики государства;
 - 2) вмешательство государства в рыночную экономическую систему обусловлено недостатками последней;
 - 3) если при цене 1 грн. производители предлагали на рынке 200 тыс. единиц продукции, а при цене 5 грн. - 400 тыс. единиц, то эластичность предложения составляет 2;
 - 4) в долгосрочном периоде производства различают только постоянные издержки;
 - 5) если номинальный ВВП составляет 570 млрд грн., а дефлятор ВВП равен 3, то реальный ВВП будет 567 млрд грн .;
 - 6) мультипликатор инвестиций зависит от нормы резервирования;
 - 7) финансовая системы страны состоит из бюджетов различных уровней;
 - 8) кривая Лаффера демонстрирует зависимость между ставкой налога и благосостоянием населения;
 - 9) по закону Оукена превышение текущего уровня безработицы над естественным на 2% приведет к отставанию фактического ВВП от потенциального на 6%;
 - 10) теория абсолютных преимуществ в международной торговле была впервые описана Д. Рикардо.

Вариант 17

1. Предприятие. Основные виды предприятий в странах рыночной экономики.
2. Денежно-кредитная политика и ее инструменты.
3. Определите, верно или неверно каждое из следующих утверждений и объясните ответ:
 - 1) метод анализа и синтеза не используется в экономической теории;
 - 2) современная экономика Украины является переходной;
 - 3) наиболее ликвидным денежным агрегатом является M_0 , то есть наличные деньги;
 - 4) если цена кофе равна 3 грн. за чашку, а чая - 2 грн., потребитель оценивает предельную полезность кофе в 30 условных баллов и максимизирует удовольствие от приобретения набора из двух товаров, то предельная полезность чая составляет 30 баллов;
 - 5) если фактический уровень безработицы в стране составляет 10%, а естественный уровень определен на уровне 5%, то фактический ВВП отстает от потенциального на 15%;
 - 6) профицит государственного бюджета представляет собой превышение расходов над доходами;
 - 7) умеренная инфляция выступает фактором, стимулирующим инвестиции и производство;
 - 8) ВВП и ВНП тождественные показатели и не отличаются количественно;
 - 9) «Градуализм» является концепцией, принципиально противоположной концепции «шоковой терапии»;
 - 10) количественное ограничение экспорта или импорта товара определенным количеством или денежной суммой на определенный промежуток времени - это квота.

Вариант 18

1. Формы собственности и виды предприятий.
2. Финансовая система и государственный бюджет.
3. Определите, верно или неверно каждое из следующих утверждений и объясните ответ:
 - 1) исследованию экономической науки присущ прежде всего системный подход;
 - 2) сосуществование элементов старой и новой систем характерно для традиционной экономики;
 - 3) если при цене 1 грн. производители предлагали на рынке 200 тыс. единиц продукции, а при цене 5 грн. - 400 тыс. единиц, то эластичность предложения составляет 0,25;
 - 4) равновесие на рынке достигается при условии вмешательства государства;

5) конкуренция является необходимым условием существования частной собственности;

6) термин «переходная экономика» обычно применяется к странам Центральной и Восточной Европы и бывших республик СССР;

7) наиболее доходным финансовым активом являются облигации государственного займа;

8) финансы - это экономические отношения между экономическими субъектами по поводу формирования, распределения и использования денежных средств;

9) если номинальный ВВП составляет 564 млрд грн., а дефлятор ВВП равен 2, то реальный ВВП будет 282 млрд грн. ;

10) политика протекционизма - это политика защиты отечественного производителя от угроз со стороны иностранных конкурентов.

Вариант 19

1. Экономические категории и экономические законы.

2. Налоги, их функции и виды. Кривая Лаффера.

3. Определите, верно или неверно каждое из следующих утверждений и объясните ответ:

1) во времена Древней Греции экономической мысли не было;

2) в рыночной экономике преобладает частная собственность, свобода выбора и предпринимательства, а также тотальное вмешательство государства в экономические процессы;

3) важными детерминантами спроса являются доход потребителя и его вкусы;

4) дефляция - это ликвидация старых денежных знаков и выпуск новых в значительно меньшем количестве;

5) нормальная прибыль обычно равна нулю денежных единиц;

6) если валовые расходы предприятия составляют 500 тыс. грн., валовая выручка - 650 тыс. грн., объем реализованной продукции составляет 50 тыс. Единиц, то прибыль равна 150 тыс. грн. ;

7) в долгосрочном периоде между инфляцией и безработицей существует обратная зависимость;

8) при условии ежегодного темпа инфляции 10% цены согласно «правилу 70» удвоятся через 10 лет;

9) кривая Лоренца иллюстрирует зависимость между ставкой налога и налоговыми поступлениями в государственный бюджет;

10) если экспорт составляет 50 млн грн., импорт - 70 млн грн., потребление осуществляется на уровне 300 млн грн., валовые инвестиции в экономику - 200 млн грн., государственные расходы - 80 млн грн., то ВВП равен 560 млн грн. ,

Вариант 20

1. Инфраструктура рынка.
2. Валютные системы и валютные курсы.
3. Определите, верно или неверно каждое из следующих утверждений и объясните ответ:
 - 1) метод анализа заключается в разделении исследуемого объекта на отдельные элементы и изучении каждого из них;
 - 2) общеизвестны такие типы экономических систем: традиционная, нетрадиционная и смешанная;
 - 3) девальвация - это повышение курса бумажных знаков относительно металла или к иностранной валюте;
 - 4) если функция спроса отражается уравнением $D = 145 - 25p$, а функция предложения уравнением $S = 30p - 90$, то равновесный объем продаж на рынке составит 16 единиц;
 - 5) наиболее эффективным инструментом монетарной политики государства является учетная ставка процента;
 - 6) уравнение обмена (Фишера) отражает равновесие между спросом на товары и их предложением;
 - 7) кривая Лоренца отражает абсолютное равенство в распределении доходов;
 - 8) в развитии цикла можно выделить фазы: кризис, депрессия, оживление, подъем;
 - 9) если реальный доход семьи - 2700 грн. в месяц, и имеет место инфляция в 12%, то номинально выплаченный доход составляет 3200 грн. ;
 - 10) для переходного состояния экономики характерны социально-экономическая нестабильность, кризисные явления и сильное расслоение населения по доходам.

Вариант 21

1. Номинальная, реальная минимальная заработная плата. Факторы, влияющие на уровень заработной платы.
2. Налоговые льготы: цели, разновидности, экономический эффект.
3. Определите, верно или неверно каждое из следующих утверждений и объясните ответ:
 - 1) анализ и синтез являются взаимосвязанными методами в процессе познания;
 - 2) экономические законы и их действие зависят от воли человека;
 - 3) необходимым условием перехода к рыночной экономике является приватизация государственной собственности;
 - 4) фактором, непосредственно влияющим на предложение являются доходы потребителей;
 - 5) если функция совокупных расходов отражена уравнением $TC = q^2 + 2q + 16$ (где q - объем выпуска), то функция постоянных издержек выглядит как $FC = 16$;

- 6) конкуренция на рынке может быть только совершенной, что обеспечивается свободным выбором и частной собственностью;
- 7) если фактическая безработица в стране составляет 10%, а естественный уровень определен на уровне 6%, то фактический ВВП отстает от потенциального на 10,5%;
- 8) отраслевые сдвиги в экономике увеличивает скрытая безработица;
- 9) экономический рост может достигаться только интенсивными методами;
- 10) национальный доход на душу населения является одним из относительных количественных показателей экономического роста.

Вариант 22

1. Основные модели рыночной ситуации. Совершенная и несовершенная конкуренция.
2. Бюджетный дефицит и государственный долг. Проблема государственного долга в Украине.
3. Определите, верно или неверно каждое из следующих утверждений и объясните ответ:
 - 1) по субъектам потребности разделяют на индивидуальные и социальные;
 - 2) центральное место в экономической системе принадлежит человеку;
 - 3) термин «экономика» при возникновении имел значение «искусство торговать»;
 - 4) эффект сноба - это исключение из закона спроса;
 - 5) экономические издержки обычно меньше, чем бухгалтерские;
 - 6) если ВВП равен 800 млн грн., потребление осуществляется на уровне 330 млн грн., государственные расходы - 120 млн грн., а чистый экспорт - 30 млн грн., то валовые инвестиции в экономику составляют 470 млн грн. ;
 - 7) нуллификация - это уменьшение денежной массы путем изъятия из обращения бумажных денег;
 - 8) наиболее критической фазой экономического цикла является бум;
 - 9) ядром хозяйственного механизма является государственное регулирование экономики;
 - 10) чистый экспорт = импорт - экспорт.

Вариант 23

1. Сущность денег, их функции. Эволюция денег.
2. Платежный и торговый баланс.
3. Определите, верно или неверно каждое из следующих утверждений и объясните ответ:
 - 1) идеологическая функция не выполняется такой наукой как экономическая теория;
 - 2) экономические потребности можно классифицировать по объектам и субъектами;

3) система экономических отношений состоит из технико-экономических и социально-экономических отношений;

4) под влиянием введения налога на продажу цена увеличивается, а налоговое бремя распределяется между покупателем и продавцом;

5) если функция спроса отражается уравнением $D = 12 - 3p$, а функция предложения уравнением $S = 2p - 8$, то равновесный объем продаж на рынке составит 2 единицы;

6) если постоянные издержки предприятия составляют 200 тыс. грн., переменные - 350 тыс. грн., объем реализованной продукции составляет 50 тыс. единиц, то средние валовые издержки равны 11 грн. .;

7) по системе национальных счетов чистый национальный продукт - это ВНП за вычетом амортизации;

8) если норма резервирования составляет 5%, то денежный мультипликатор составляет 0,5;

9) акциз является косвенным налогом;

10) кривая Лоренца отражает обратную зависимость между безработицей и инфляцией.

Вариант 24

1. Экономическая рента, условия ее возникновения, виды.

2. Мировая экономика, эволюция становления. Современное состояние развития мирового хозяйства.

3. Определите, верно или неверно каждое из следующих утверждений и объясните ответ:

1) «Наукой о богатстве» экономику называл Маркс;

2) экономический ресурс «земля» представляет собой недра и плодородие почв;

3) вследствие ограниченности ресурсов возникает общая проблема выбора;

4) закон спроса не имеет исключений при любых условиях;

5) если функция совокупных расходов отражена уравнением $TC = q^2 + 2q + 16$ (где q - объем выпуска) то функция постоянных издержек выглядит как $FC = q^2 + 2q + 16$;

6) предложение ресурса «земля» абсолютно неэластично;

7) совокупный спрос состоит из потребительских расходов, валовых инвестиций и государственных расходов;

8) если предельная склонность к сбережению составляет 0,3, то при национальном доходе 760 млн грн. населения будет потреблять 228 млн грн. .;

9) ВВП - это стоимость товаров и услуг, созданных на территории государства за год;

10) демпинг является финансовым методом торговой политики, заключающейся в финансовом стимулировании государством развития экспорта.

Вариант 25

1. Основные типы экономических систем и их сравнительный анализ.
2. Дискреционная и недискреционная фискальная политика.
3. Определите, верно или неверно каждое из следующих утверждений и объясните ответ:
 - 1) экономическая наука выполняет только познавательную и методологическую функции;
 - 2) экономические ресурсы ограничены из-за того, что потребности человека неограничены;
 - 3) закон убывающей предельной полезности влияет на желание потребителя приобрести дополнительную единицу определенного блага;
 - 4) если цена кофе равна 3 грн. за чашку, а чая - 2 грн., а потребитель имеет только 12 грн., то ему будет доступен набор из 2 чашек кофе и 6 чая;
 - 5) условием максимизации прибыли является совпадение предельных издержек и предельного дохода;
 - 6) если с ростом доходов растут ставки налога, то это говорит о действии прогрессивной налоговой системы;
 - 7) в случае непредсказуемой галопирующей инфляции выигрывают люди с фиксированными доходами;
 - 8) увеличение налогового давления приведет к уменьшению совокупного спроса;
 - 9) если ставка процента по вкладу в банковское учреждение составляет 10% годовых, то будущая стоимость вложенных на 2 года 1000 грн. будет 1210 грн. ;
 - 10) индекс человеческого развития – комплексный показатель, учитывающий продолжительность жизни, доходы на душу населения, уровень образования.

Вариант 26

1. Товарное производство, условия его возникновения. Товар и его свойства.
2. Ссудный процент и факторы, влияющие на его уровень.
3. Определите, верно или неверно каждое из следующих утверждений и объясните ответ:
 - 1) монетаристы утверждали, что любое вмешательство государства в функционирование экономической системы нецелесообразно;
 - 2) потребности человека невозможно систематизировать и определить их иерархию;
 - 3) личный интерес был определяющим в условиях командно-административной экономики;
 - 4) деньги являются товаром-эквивалентом, что выполняет лишь функцию меры стоимости;
 - 5) эффект сноба касается товаров-предметов роскоши;

6) если валовые расходы предприятия составляют 400 тыс. грн., валовая выручка - 700 тыс. грн., объем реализованной продукции составляет 10 тыс. единиц, то прибыль на единицу продукции составляет 4 грн. ;

7) на уровень ставки ссудного процента влияют прежде всего степень риска и срок, на который предоставляется заем;

8) если количество безработных составляет 9 млн чел., а количество занятых - 36 млн чел., то уровень безработицы в стране составляет примерно 9%;

9) ползучая инфляция проявляется из-за дефицита товаров на рынке;

10) в соответствии с теорией цикла жизни товар проходит пять стадий жизни в международной торговле.

Вариант 27

1. Равновесие спроса и предложения. Цена равновесия.

2. Система национальных счетов.

3. Определите, верно или неверно каждое из следующих утверждений и объясните ответ:

1) примером первоочередных потребностей могут служить потребности в одежде и еде;

2) действие закона убывающей предельной полезности определяет поведение потребителя;

3) личные и общественные потребности никогда не вступают в противоречие;

4) если функция спроса отражается уравнением $D = 25 - 5p$, а функция предложения уравнением $S = 4p - 12$, то равновесная цена на рынке составит 8 грн. ;

5) реальная ставка процента равна номинальной за минусом уровня инфляции;

6) фрикционная и структурная безработица в совокупности составляют естественную;

7) дискреционная и недискреционная политика являются разновидностями денежно-кредитной политики;

8) если фактическая безработица в стране составляет 12%, а естественный уровень определен на уровне 5%, то фактический ВВП отстает от потенциального на 17,5%;

9) заработная плата и процент являются составными ВВП, рассчитанного по методу доходов;

10) по цели вложения выделяют прямые и портфельные инвестиции.

Вариант 28

1. Заработная плата и факторы ее дифференциации. Номинальная и реальная заработная плата.

2. Бюджетный дефицит: возникновение, последствия.

3. Определите, верно или неверно каждое из следующих утверждений и объясните ответ:

1) микроэкономика изучает среди прочего международные экономические отношения;

2) классическая школа экономической теории исповедовала принцип невмешательства государства в экономические процессы;

3) личные интересы охватывают потребности, связанные с реализацией частной собственности;

4) если цена товара выросла с 1 до 5 грн., а спрос снизился на 10%, то эластичность спроса по цене составит 1,33;

5) рынку присуще выполнение оздоровительной функции;

6) сумма средств, которую получила фирма от реализации продукции за определенное время, представляет собой валовую прибыль;

7) кривая Филлипса демонстрирует прямую зависимость между уровнем безработицы и темпами инфляции;

8) если номинальная ставка процента составляет 14%, а уровень инфляции - 7%, то реальная процентная ставка равна 21%;

9) ЧНП отличается от ВВП на показатель амортизации;

10) платежный и торговый баланс отличаются на показатель счета движения капиталов.

Вариант 29

1. Рынок и его функции.

2. Инфляция измерение, причины, виды ..

3. Определите, верно или неверно каждое из следующих утверждений и объясните ответ:

1) экономическая наука не использует дедуктивный метод исследования;

2) кривая производственных возможностей отражает распределение доходов между различными слоями общества;

3) если цена кофе равна 3 грн. за чашку, а чая - 2 грн., а потребитель имеет только 12 грн., то ему будет доступен набор из 2 чашек кофе и 6 чая;

4) спрос является платежеспособной потребностью;

5) внутренние и внешние издержки составляют экономические издержки фирмы;

6) спрос на деньги со стороны активов является абсолютно эластичным;

7) налог на добавленную стоимость является прямым налогом;

8) если номинальная ставка процента составляет 12%, а уровень инфляции - 7%, то реальная процентная ставка равна 5%;

9) номинальный и реальный ВВП не отличаются при отсутствии инфляции;

10) конвертируемость это способность национальной валюты свободно обмениваться на иностранную.

Вариант 30

1. Экономические издержки: сущность, виды.
2. Теория эффективного спроса Дж. М. Кейнса.
3. Определите, верно или неверно каждое из следующих утверждений и объясните ответ:
 - 1) Аристотель является выдающимся представителем классической школы экономической теории;
 - 2) в административно-командной экономике личные интересы доминировали над общественными;
 - 3) экономический интерес - это мотив и стимул действий, направленных на удовлетворение потребностей;
 - 4) ликвидность - это способность денег приносить дополнительный доход;
 - 5) рынок выполняет только следующие функции: регулирующая, оздоровительная и контролирующая;
 - 6) если совокупные расходы составляют 300 тыс. грн., переменные - 250 тыс. грн., объем производства 20 тыс. ед., то средние постоянные издержки равны 12,5 грн. ;
 - 7) спрос на деньги может быть спекулятивный и транзакционный;
 - 8) если фактический уровень безработицы в стране составляет 25%, а естественный уровень определен на уровне 5%, то фактический ВВП отстает от потенциального на 20%;
 - 9) трансферты не включаются в состав ВВП;
 - 10) среди видов валютных курсов выделяют фиксированный, гибкий и плавающий.

(2 семестр)

Вариант 1

1. Микроэкономика как составная часть экономической теории.
2. Теория издержек производства.
3. Определите, верно или неверно каждое из следующих утверждений и объясните ответ:
 - 1) микроэкономика формирует взгляд на экономические процессы «сверху» и концентрирует внимание на агрегированных показателях;
 - 2) если любое количество товара продается по одинаковой цене, то спрос на этот товар совершенно неэластичен;
 - 3) в точке максимума совокупного продукта предельный продукт больше среднего;
 - 4) к условиям совершенной конкуренции не относится отсутствие любых барьеров на вступление новых фирм в отрасль;
 - 5) спрос на товар является производным от спроса на ресурс.
4. Выполните графоаналитическое упражнение.
Функция спроса на товар $Q_d = 40 - 7p$, функция предложения $Q_s = -6 + 16p$.
Определите равновесную цену и равновесный объем продаж. Изобразите на

графике кривые спроса и предложения на данный товар. Нарисуйте новые графики спроса и предложения, которые отражали бы такие события: 1) доходы потребителей сократились; 2) цены товаров-субститутов выросли; 3) цены на ресурсы уменьшились.

Вариант 2

1. Методологическая база микроэкономики.
2. Кривые безразличия потребителя.
3. Определите, верно или неверно каждое из следующих утверждений и объясните ответ:
 - 1) основные объекты микросистемы - домохозяйства, фирмы, государство;
 - 2) все точки на кривой безразличия означают одинаковый уровень дохода потребителя;
 - 3) в краткосрочном периоде все производственные расходы остаются постоянными;
 - 4) рынок автомобилей по своим характеристикам соответствует условиям совершенной конкуренции;
 - 5) если два ресурса являются субститутами, то сокращение цены на один из них приведет к уменьшению спроса на другой.
4. Выполните графоаналитического упражнения. Заполните таблицу:

Q	FC	VC	TC	MC	AFC	AVC	ATC
0	185	0					
1		225					
2		270					
3		325					
4		390					
5		465					

Постройте кривые AFC , AVC , ATC и MC на одном графике. Ответьте, что происходит с кривыми: 1) AFC , когда объемы производства растут; 2) AVC , когда объемы производства растут; 3) ATC , когда объемы производства растут; 4) MC , когда объемы производства растут; 5) в каких точках предельные издержки пересекают кривые AVC и ATC ?

Вариант 3

1. Микросистема и ее основные характеристики.
2. Фирма на рынке совершенной конкуренции.
3. Определите, верно или неверно каждое из следующих утверждений и объясните ответ:

- 1) любые экономические решения основываются на сравнении выгод и затрат субъектов;
- 2) каждая точка на бюджетной линии означает комбинацию двух товаров;
- 3) производственная функция показывает наиболее выгодный для фирмы выпуск при заданных ценах на ресурсы;
- 4) кривая спроса для конкурентной фирмы имеет отрицательный наклон;
- 5) чем эластичнее спрос на производимую продукцию, тем эластичнее спрос на ресурс, с помощью которого она производится.

4. Выполните графоаналитического упражнение.

Функция спроса населения на товар данного вида имеет вид $Q_d = 8 - p$, функция его предложения: $Q_s = 2p - 4$. Определите равновесную цену и равновесный объем продаж товара. Изобразите на графике кривые спроса и предложения этого товара, а также точку рыночного равновесия. Определите объем продаж и величину неудовлетворенного спроса, если цена товара будет фиксирована на уровне 3 грн. за единицу.

Вариант 4

1. Рациональный выбор экономического субъекта.
2. Ценообразование на монополистическом рынке.
3. Определите, верно или неверно каждое из следующих утверждений и объясните ответ:

- 1) альтернативная стоимость - это стоимость утраченных возможностей;
- 2) чем дальше кривая безразличия находится от начала координат, тем меньшую полезность она отражает;
- 3) изокванта иллюстрирует различные объемы продукта, которые можно создать при заданных количествах ресурсов;
- 4) для конкурентной фирмы цена продукта равна предельному доходу;
- 5) фирма достигает минимального уровня расходов в том случае, когда предельный продукт каждого фактора равна его цене.

4. Выполните графоаналитического упражнение.

В таблице, приведенной ниже, показана зависимость общих затрат от выпуска продукции. Определите постоянные, переменные, предельные и средние издержки. При каком объеме выпуска прибыль будет максимальной, если $P = 50$ грн. Подайте графическую иллюстрацию.

Выпуск продукции (шт.)	0	1	2	3	4
------------------------	---	---	---	---	---

Общие затраты (грн.)	80	150	200	250	320
----------------------	----	-----	-----	-----	-----

Вариант 5

1. Модель рыночного спроса.
2. Экономические и общественные последствия монополии.
3. Определите, верно или неверно каждое из следующих утверждений и объясните ответ:

1) в микроэкономике широко применяется математический инструментарий;

2) при увеличении дохода потребителя бюджетная линия сдвигается вправо;

3) изокванта иллюстрирует кривую совокупного продукта;

4) если рыночная цена постоянна, то увеличение объема выпуска не влияет на объем прибыли;

5) при монополистической конкуренции кривая спроса фирмы при прочих равных условиях менее наклонная, чем в условиях монополии.

4. Выполните графоаналитического упражнения. Заполните таблицу:

Q	FC	VC	TC	MC	AFC	AVC	ATC
0	60	0					
1		45					
2		85					
3		120					
4		150					
5		185					

Постройте кривые FC , VC и TC на одном графике: 1) почему график FC является горизонтальной прямой; 2) почему при увеличении объемов производства VC растет; 3) почему кривая TC имеет такой же наклон, как и кривая VC ?

Вариант 6

1. Модель рыночного предложения.
2. Монопольная власть фирмы.
3. Определите, верно или неверно каждое из следующих утверждений и объясните ответ:
 - 1) объем спроса измеряется в денежных единицах;
 - 2) потребитель максимизирует полезность, если его бюджетная линия пересекает кривую безразличия;
 - 3) с ростом объема производства изокванта будет смещаться вправо вниз;
 - 4) если кривая совокупного дохода фирмы лежит ниже кривой совокупных расходов, то при любом объеме производства прибыль фирмы имеет отрицательное значение;
 - 5) монополистический конкурент определяет объем выпуска по правилу $P = MC$.
4. Выполните графоаналитического упражнения.
Функция спроса населения на товар данного вида имеет вид $Q_d = 7 - p$, функция его предложения: $Q_s = 3 + p$. Определите равновесную цену и равновесный объем продаж. Изобразите на графике кривые спроса и предложения на данный товар. Нарисуйте новые графики спроса и предложения, которые отражали бы такие события: 1) государство вводит налог на потребителя; 2) правительство предоставит производителям субсидию; 3) цены товаров-комплиментов выросли.

Вариант 7

1. Рыночное равновесие и механизм ее установления.
2. Особенности спроса на факторы производства.
3. Определите, верно или неверно каждое из следующих утверждений и объясните ответ:
 - 1) сдвиг кривой предложения вправо означает, что производители предлагают большее количество продукта при каждом уровне цен;
 - 2) если покупатель приобретет более единицы какого-либо товара, то предельная полезность потребления возрастает;
 - 3) для любой производственной функции характерен растущий предельный продукт;
 - 4) конкурентная фирма минимизирует убытки, уменьшая производство до нуля, если цена продукта ниже средних переменных издержек;
 - 5) предельные издержки на ресурс - это изменение совокупного объема выручки фирмы, если она использует дополнительную единицу ресурса.
4. Выполните графоаналитического упражнения.

Заполните таблицу:

Q	FC	VC	TC	MC	AFC	AVC	ATC
0	60	0					
1		50					
2		90					
3		125					
4		158					
5		195					

Постройте кривые FC , VC и TC на одном графике: 1) почему график FC является горизонтальной прямой; 2) почему при увеличении объемов производства VC растет; 3) почему кривая TC имеет такой же наклон, как и кривая VC ?

Вариант 8

1. Причины и последствия нарушения рыночного равновесия.
2. Общие характеристики рынка труда.
3. Определите, верно или неверно каждое из следующих утверждений и объясните ответ:
 - 1) следствием установления цены «пола» является дефицит товара на рынке;
 - 2) состояние потребительского равновесия заключается в том, что совокупная полезность товара X равна совокупной полезности товара B ;
 - 3) замещение одного ресурса другим происходит в условиях движения по изокванте;
 - 4) сумма убытков предприятия, которое закрывается в краткосрочном периоде в условиях совершенной конкуренции, равна совокупным переменным потерям;
 - 5) для конкурентной фирмы оптимальным является такое сочетание труда и капитала, когда отношение предельных продуктов этих факторов к их цене одинаково.
4. Выполните графоаналитического упражнение.
Функция спроса населения на товар данного вида имеет вид $Q_d = 10 - p$, функция предложения данного товара: $Q_s = 5 + 2p$. Определите равновесную

цену и равновесный объем продаж. Изобразите на графике кривые спроса и предложения на данный товар. Предположим, на данный товар устанавливается фиксированная цена на уровне 3 денежные единицы. Определите объем неудовлетворенного спроса.

Вариант 9

1. Эластичность спроса.
2. Антимонопольная политика и ее особенности в Украине.
3. Определите, верно или неверно каждое из следующих утверждений и объясните ответ:

1) в состоянии равновесия кривые спроса и предложения на товар совпадают;

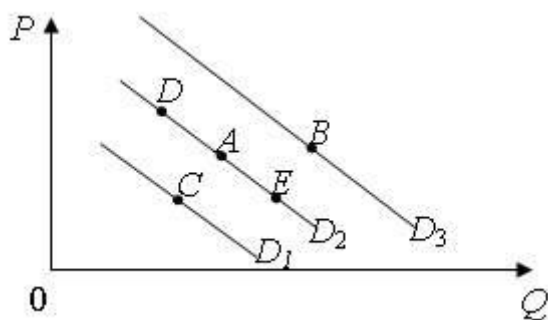
2) теория поведения потребителя предполагает, что потребитель может максимизировать совокупную полезность;

3) оптимальное сочетание ресурсов находится в точке пересечения двух изоквант;

4) конкурентная фирма в долгосрочном периоде получает только нормальную прибыль;

5) кривая спроса фирмы на ресурс является кривой предельной доходности ресурса, каждая точка которой показывает количество ресурса, которое покупала бы фирма при каждой возможной цене данного ресурса.

4. Выполните графоаналитическое упражнение.



На рисунке представлены кривые спроса D_1 , D_2 , D_3 . Ответить на следующие вопросы: 1) чем может быть вызвано движение из точки A в точку B ? Что могло быть причиной этого сдвига? 2) чем может быть вызвано движение из точки A в точку C ? Что могло быть причиной этого сдвига? 3) чем может быть вызвано движение из точки A в точку D ? Что могло быть причиной этого сдвига? 4) чем может быть вызвано движение с точки A в точку E ? Что могло быть причиной этого сдвига?

Вариант 10

1. Эластичность предложения.
2. Рынок труда в условиях несовершенной конкуренции.

3. Определите, верно или неверно каждое из следующих утверждений и объясните ответ:

1) кривая индивидуального спроса расположена ближе к оси цен, чем кривая рыночного спроса;

2) ординализм предполагает возможность измерения величины полезности в условных единицах;

3) изокоста - это линия, которая демонстрирует множество комбинаций цен на ресурсы;

4) в краткосрочном периоде конкурентная фирма, которая максимизирует прибыль или минимизирует убытки, не будет продлевать производства, если цена продукта ниже средних совокупных расходов;

5) эластичность спроса на ресурс зависит от доли расходов на этот ресурс в расходах фирмы.

4. Выполните графоаналитического упражнение.

Спрос на фотоаппараты описывается уравнением: $Q_d = 100 - p$ их предложения задается уравнением: $Q_s = 2p - 50$. Определите равновесную цену (грн.) и равновесное количество (тыс. шт.) фотоаппаратов. Подайте графическую иллюстрацию. Как изменятся равновесные цена и количество фотоаппаратов, если будет введен 10% налог с продаж? Какие изменения произойдут на графике?

Вариант 11

1. Полезность блага.

2. Индивидуальное рыночное предложение труда.

3. Определите, верно или неверно каждое из следующих утверждений и объясните ответ:

1) микроэкономика может быть определена как область экономической науки, которая исследует экономическую роль государства;

2) теория поведения потребителя предполагает, что потребитель может максимизировать предельной полезности;

3) предельные издержки равны средним издержкам при том объеме производства, при котором средние переменные издержки достигают минимума;

4) если фирма имеет монопольную власть на рынке, то необходимости осуществлять рекламу у нее нет;

5) с повышением предельного продукта ресурса, объем спроса на него растет.

4. Выполните графоаналитического упражнение.

Функция спроса и предложения имеет вид: $Q_d = 9 - p$, $Q_s = 2p - 6$. Вычислите параметры рыночного равновесия (цена - грн., Объем - тыс. шт.). Нарисуйте графическую модель рыночного равновесия, если: 1) цена на данный товар возрастет. Как называется это движение? 2) возрастет цена на товар-заменитель; 3) возрастет цена на дополняющий товар.

Вариант 12

1. кардиналистский теория полезности.
2. Ценовая дискриминация.
3. Определите, верно или неверно каждое из следующих утверждений и объясните ответ:

- 1) экономический спрос - это желание потребителя приобрести товар;
- 2) предельная полезность определяется как максимальный уровень полезности, которую потребитель хочет получить;
- 3) экономическая прибыль представляет собой неявные издержки;
- 4) монополист может влиять на цену продукта, манипулируя предлагаемым количеством продукта;
- 5) на конкурентном рынке труда равновесная ставка заработной платы равна ценности предельного продукта труда.

4. Выполните графоаналитического упражнения. Заполните таблицу:

Q	FC	VC	TC	MC	AFC	AVC	ATC
0	185	0					
1		63					
2		103					
3		170					
4		208					
5		254					

Постройте кривые AFC, AVC, ATC и MC на одном графике. Ответьте, что происходит с кривыми: 1) AFC, когда объемы производства растут? 2) AVC, когда объемы производства растут? 3) ATC, когда объемы производства растут? 4) MC, когда объемы производства растут? 5) в каких точках предельные издержки пересекают кривые AVC и ATC?

Вариант 13

1. Ординалистская теория полезности.
2. Модель межвременного выбора потребителя.
3. Определите, верно или неверно каждое из следующих утверждений и объясните ответ:

- 1) падение спроса на товар может быть вызвано уменьшением цен на товары-заменители этого товара;

2) закон убывающей предельной полезности заключается в том, что все блага имеют для потребителя разную полезность и поэтому их можно разместить в порядке убывания этой полезности;

3) экономическая прибыль обычно превышает бухгалтерскую прибыль;

4) монополист вполне «свободный» от рыночных цен в установлении цены и объема производства;

5) законодательное ограничение минимального уровня заработной платы способствует, как правило, увеличению занятости.

4. Выполните графоаналитического упражнения.

Нарисуйте график спроса и предложения цыплят по данным таблицы.

Определите цену равновесия и равновесный объем продукции.

Цена 1 кг, грн.	Спрос, тонн за месяц	Предложение, тонн за месяц
5	9	18
4	10	16
3	12	12
2	15	7
1	20	0

Нарисуйте схематично новые графики спроса и предложения, которые отражали бы такие события: 1) произошло повышение цен на говядину; 2) правительство увеличило налог на прибыль; 3) выросли цены комбикормов; 4) выведена новая порода цыплят; 5) ожидается, что в ближайшее время цены на цыплят значительно возрастут. Объясните, как эти события повлияют на равновесные цену и объем продукции.

Предположим, что правительство фиксирует цены на цыплят на уровне 2 грн. за кг. Какие последствия будет иметь установление такой цены? Покажите их графически.

Вариант 14

1. Доходы и прибыль фирмы.

2. Ценообразование и равновесие на олигополистическом рынке.

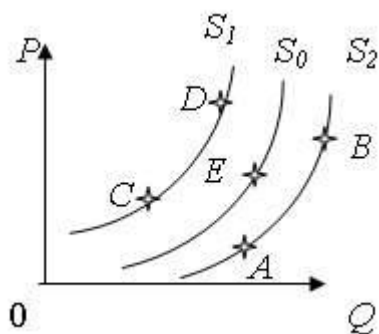
3. Определите, верно или неверно каждое из следующих утверждений и объясните ответ:

1) закон предложения утверждает: если цены растут, а прочие условия неизменны, то это приведет к росту предложения;

2) совокупная полезность возрастает, если предельная полезность уменьшается;

3) если при определенном объеме производства предельные затраты превышают цену товара, предприятие в условиях совершенной конкуренции максимизирует прибыль;

- 4) для компании - монополиста предельный доход меньше чем цена;
- 5) принимая решение о трудоустройстве рабочий взвешивает заработную плату, которую он может получить, и потерянное время отдыха.



4. Выполните графоаналитического упражнение.

На рисунке изображены кривые предложения. Объясните: 1) события могли вызвать сдвиг из точки А в точку В? В каких категориях описываются эти изменения? 2) чем вызвано движение из точки А в точку С? Как называется такой сдвиг? 3) чем вызвано движение с точки С в точку D? 4) чем вызвано движение из точки В в точку E? Как называется такой сдвиг?

Вариант 15

1. Бюджетная линия потребителя.
2. Модель ломаной кривой спроса.
3. Определите, верно или неверно каждое из следующих утверждений и объясните ответ:
 - 1) рост цен на материалы, необходимые для производства товара X, вызывает сдвиг кривой спроса вверх и вправо;
 - 2) закон убывающей предельной полезности заключается в том, что необходимо сначала потреблять полезные блага, а затем все остальные;
 - 3) чем больше объем производства в фирме, тем меньше совокупные постоянные затраты;
 - 4) максимизируя прибыль монополист будет всегда стремиться избегать неэластичного отрезка его кривой спроса;
 - 5) рыночное предложение труда состоит из многих отраслевых предложений.

4. Выполните графоаналитического упражнение.

Из печати вышел новый учебник по микроэкономике. Спрос на учебники заданный уравнением: $Q_d = 6 - p$, предложение описывается уравнением: $Q_s = p - 2$. Определите равновесную цену (грн.) и равновесное количество (тыс. шт.). Подайте графическую иллюстрацию. Предположим, что правительство устанавливает налог на продавца в размере 2 грн. с одного учебника. Определите новую равновесную цену и равновесный объем продаж. Какие изменения произойдут на графике?

Вариант 16

1. Оптимум (равновесие) потребителя как модель рационального потребительского выбора.
2. Рынок земли.
3. Определите, верно или неверно каждое из следующих утверждений и объясните ответ:
 - 1) совершенствование технологии сдвигает кривую спроса вверх и вправо;
 - 2) кардиналистский подход к понятию полезности не требует сравнения полезностей различных благ;
 - 3) средние постоянные издержки сокращаются с ростом объема выпуска;
 - 4) монополистическая фирма будет наращивать производство продукции до такого объема, при котором предельный доход равен предельным издержкам;
 - 5) когда ставки заработной платы растут, альтернативная стоимость досуга также растет.
4. Выполните графоаналитического упражнение.
Кривая спроса на товар задается уравнением: $Q_d = 2800 - 160p$; кривая предложения: $Q_s = 1600 + 140p$. Постройте графики спроса и предложения, определите равновесные цену (грн.) И объем товара (шт.). Объясните и проиллюстрируйте графически ситуацию, которая возникнет, если цена на данный товар будет фиксирована на уровне 8 грн.

Вариант 17

1. Равновесие потребителя и изменения цен товара.
2. Разновидности олигополии.
3. Определите, верно или неверно каждое из следующих утверждений и объясните ответ:
 - 1) коэффициент эластичности спроса по доходу определяется как изменение объема спроса, отнесенное к изменению цены;
 - 2) первый закон Госсена формулируется следующим образом: полезность от потребления каждой последующей единицы блага уменьшается;
 - 3) к постоянным издержкам фирмы следует отнести заработную плату рабочих;
 - 4) если на рынке имеется более двух фирм, то имеет место олигополия;
 - 5) монополия заинтересована в сокращении уровня занятости.
4. Выполните графоаналитического упражнение.

Заполните таблицу:

Q	FC	VC	TC	MC	AFC	AVC	ATC
0	185	0					
1		225					
2		270					
3		325					
4		390					
5		465					

Постройте кривые FC , VC и TC на одном графике: 1) почему график FC является горизонтальной прямой; 2) почему при увеличении объемов производства VC растет; 3) почему кривая TC имеет такой же наклон, как и кривая VC ?

Вариант 18

1. Фактор дохода в модели потребителя.
2. Краткосрочные и долгосрочные инвестиции.
3. Определите, верно или неверно каждое из следующих утверждений и объясните ответ:

1) если с уменьшением цены на один товар на 2% спрос на взаимосвязанный с ним товар уменьшился на 3%, то это означает, что коэффициент перекрестной эластичности спроса превышает 1;

2) точки пересечения бюджетной линии с осями координат показывают уровень полезности, который достигается при потреблении данного объема блага;

3) совокупные затраты - это затраты, равные сумме доходов, которую можно получить при наиболее выгодном из всех возможных использовании ресурсов;

4) на олигополистическом рынке не могут присутствовать небольшие фирмы;

5) профсоюз на рынке труда является монополистом.

4. Выполните графоаналитического упражнение.

Функция спроса имеет вид: $Q_d = 70 - 2p$, функция предложения: $Q_s = 10 +$ стр. Постройте графики спроса и предложения, определите равновесные цену (грн.) и объем продаж (шт.). Нарисуйте новые графики спроса и

предложения, которые отражали бы такие события: 1) увеличение цен на сырье для производства данного товара; 2) снижение налога на добавленную стоимость; 3) мощная реклама данного товара.

Вариант 19

1. Производственная функция фирмы.
2. Общее равновесие и экономическая эффективность.
3. Определите, верно или неверно каждое из следующих утверждений и объясните ответ:

1) неэластичная предложение означает, что повышение цены на 1% ведет к увеличению объема предложения менее чем на 1%;

2) точки пересечения бюджетной линии с осями координат показывают количества товаров, которые может приобрести потребитель, потратив весь свой доход;

3) переменные затраты напрямую зависят от изменения цены товара;

4) если на олигополистическом рынке фирма повысит или снизит цену или объем производства продукции, то это повлияет на продажи и прибыль фирм-конкурентов;

5) реальная ставка процента не может превышать номинальную.

4. Выполните графоаналитического упражнение.

Функция спроса на товар задана как $Q_d = 30 - 2p$, функция предложения - $Q_s = 3p - 10$. Определить равновесную цену и равновесный объем продаж. Изобразить на графике кривые спроса и предложения на данный товар. Нарисуйте новые графики спроса и предложения, которые отражали бы такие события: 1) снижение цены товара-субститута; 2) снижение цен на сырье для производства данного товара; 3) повышение налога на добавленную стоимость.

Вариант 20

1. Излишек потребителя и производителя.
2. Методы оценки доходности инвестиционных проектов.
3. Определите, верно или неверно каждое из следующих утверждений и объясните ответ:

1) если с изменением цены на 1%, объем спроса изменяется на 5%, то спрос является неэластичным;

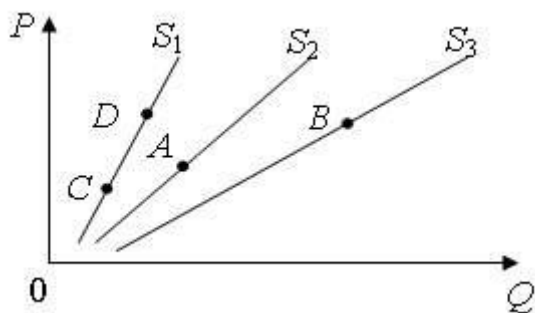
2) наклон бюджетной линии отражает количество одного блага, которую потребитель согласен поменять на такое же количество другого блага, чтобы остаться на том же уровне благосостояния;

3) в долгосрочном периоде все издержки являются постоянными;

4) картели и подобные им тайные соглашения на практике трудно создавать и поддерживать долгое время;

5) нынешняя стоимость капитала зависит от того, какую ценность он способен создать в будущем.

4. Выполните графоаналитического упражнение.



На рисунке представлены кривые спроса S_1 , S_2 , S_3 . Ответить на следующие вопросы: 1) чем может быть вызвано движение из точки A в точку B ? Что быть причиной этого сдвига? 2) чем может быть вызвано движение из точки A в точку C ? Что быть причиной этого сдвига? 3) чем может быть вызвано движение с точки C в точку D ? Что быть причиной этого сдвига? 4) чем может быть вызвано движение с точки B в точку C ? Что быть причиной этого сдвига?

Вариант 21

1. Производственная функция фирмы с одним переменным фактором производства.
2. Производственная функция фирмы с одним переменным фактором производства.
3. Определите, верно или неверно каждое из следующих утверждений и объясните ответ:

1) если коэффициент ценовой эластичности спроса на товар равен 0,7, то такой спрос является эластичным;

2) бюджетная линия не изменит своего положения, если цена товара A снизится на столько же процентов, на сколько цена товара B ;

3) избыток дохода над экономическими затратами - это нормальная прибыль;

4) дуополия - один из частных случаев модели монополистической конкуренции;

5) процедура дисконтирования увеличивает величину дохода.

4. Выполните графоаналитического упражнение.

Функция спроса на товар задана уравнением: $Q_d = 8 - p$, Функция предложения товара: $Q_s = p - 1$. Вычислить параметры рыночного равновесия (цена - грн., объем - тыс. шт.). Нарисуйте графическую модель рыночного равновесия. Нарисуйте новые графики спроса и предложения, которые отражали бы такие события: 1) повышение налога на добавленную стоимость; 2) мощная реклама данного товара; 3) сокращение доходов потребителей при условии, что товар нормальный.

Вариант 22

1. Производственная функция фирмы с двумя переменными факторами производства.

2. Эластичность спроса и распределения налогового бремени.

3. Определите, верно или неверно каждое из следующих утверждений и объясните ответ:

1) спрос характеризуется неизменностью объемов по любой цене при прочих равных условиях - это совершенно эластичный спрос;

2) бюджетная линия не изменит своего положения, если цена товара А вырастет на столько же процентов, на сколько цена товара В снизится;

3) доход на единицу реализованной продукции - это совокупный доход;

4) рыночное поведение отраслевого картеля, который максимизирует прибыль, тождественно поведению чистой монополии;

5) чем больше ставка процента, тем больше дисконтированный доход.

4. Выполните графоаналитического упражнение. Заполните таблицу:

Q	FC	VC	TC	MC	AFC	AVC	ATC
0	70	0					
1		78					
2		100					
3		108					
4		114					
5		127					

Постройте кривые AFC, AVC, ATC и MC на одном графике. Ответьте, что происходит с кривыми: 1) AFC, когда объемы производства растут; 2) AVC, когда объемы производства растут; 3) ATC, когда объемы производства растут; 4) MC, когда объемы производства растут; 5) в каких точках предельные издержки пересекают кривые AVC и ATC?

Вариант 23

1. Изокванта фирмы.

2. Рынок капитала.

3. Определите, верно или неверно каждое из следующих утверждений и объясните ответ:

1) чем меньше заменителей имеет товар, тем более эластичным является спрос на него;

2) предельная норма замещения товара А товаром В означает: сколько единиц товара потребитель покупает, если цена товара В уменьшается на одну денежную единицу;

3) средние затраты - это затраты на единицу выпуска;

4) ценовые войны приводят к снижению доходов всех участников олигополии;

5) фирма будет осуществлять инвестиции тогда, когда ожидаемая норма прибыли будет меньше, чем процентная ставка.

4. Выполните графоаналитического упражнение.

Функция спроса на товар задается уравнением: $Q_d = 4750 - 350p$, функция предложения: $Q_s = 1600 + 100p$. Постройте графики спроса и предложения, определите равновесные цену (грн.) И объем продаж (шт.). Что произойдет, если на данный товар правительством будет установлена фиксированная цена 9 грн.?

Вариант 24

1. Эффект масштаба производства фирмы.

2. Ценообразование и равновесие на олигополистическом рынке. Модель картеля.

3. Определите, верно или неверно каждое из следующих утверждений и объясните ответ:

1) спрос на предметы роскоши более эластичен, чем спрос на товары первой необходимости;

2) предельная норма замещения товара А товаром В означает от количества единиц товара А потребитель готов отказаться в обмен на получение дополнительной единицы товара В, чтобы общая полезность осталась неизменной;

3) постоянные затраты включают расходы на зарплату управляющего персонала, охраны, проценты по кредитам, заработную плату рабочих;

4) в точке равновесия Курно на каждую из фирм приходится половина объема рынка;

5) экономическая рента является платой за ресурсы с абсолютно неэластичной кривой спроса.

4. Выполните графоаналитического упражнение.

Заполните таблицу:

Q	FC	VC	TC	MC	AFC	AVC	ATC
0	60	0					
1		45					
2		85					
3		120					
4		150					
5		185					

Постройте кривые AFC , AVC , ATC и MC на одном графике. Ответьте, что происходит с кривыми: 1) AFC , когда объемы производства растут; 2) AVC , когда объемы производства растут; 3) ATC , когда объемы производства растут; 4) MC , когда объемы производства растут; 5) в каких точках предельные издержки пересекают кривые AVC и ATC ?

Вариант 25

1. Расходы фирмы в краткосрочном периоде.
2. Ценообразование и равновесие на олигополистическом рынке. Модель Штакельберга.
3. Определите, верно или неверно каждое из следующих утверждений и объясните ответ:

1) микроэкономика может быть определена как область экономической науки, которая исследует экономическую роль государства;

2) теория предельной полезности объясняет ценность благ их общей полезностью;

3) переменные расходы включают: расходы на оплату труда работников, амортизацию оборудования, рентные платежи;

4) характерной чертой монополии, в отличие от конкурентной фирмы является стремление максимизировать прибыль;

5) текущая дисконтированная стоимость - это затраты текущего периода на реализацию инвестиционного проекта.

4. Выполните графоаналитического упражнение.

Функция спроса населения на товар задана уравнением: $Q_d = 8 - p$; функция предложения товара: $Q_s = 2p - 4$. Вычислите равновесные цену (грн.) и объем продаж (тыс. шт.). Определите объем продаж и величину неудовлетворенного спроса, если цена товара будет фиксирована на уровне 3 грн. за единицу. Подайте графическую иллюстрацию.

Вариант 26

1. Влияние государства на главные характеристики рыночного спроса.
2. Особенности экономической стратегии фирмы на рынке совершенной конкуренции.
3. Определите, верно или неверно каждое из следующих утверждений и объясните ответ:

1) если чемодан и большая сумка - товары взаимозаменяемые, то рост цен на чемоданы приведет к падению спроса на сумки;

2) понятие «предельная полезность» означает величину, равную общей полезности товара, отнесенной к количеству купленных единиц;

3) постоянные затраты включают расходы на сырье, оборудование, ренту, проценты по кредиту;

4) монополистическая конкуренция - это конкуренция фирм-монополистов различных отраслей;

5) норма отдачи исчисляется как отношение прибыли к чистым инвестициям в процентах.

4. Выполните графоаналитического упражнения. Заполните таблицу:

Q	FC	VC	TC	MC	AFC	AVC	ATC
0	70	0					
1		36					
2		64					
3		86					
4		111					
5		140					

Постройте кривые FC , VC и TC на одном графике: 1) почему график FC является горизонтальной прямой; 2) почему при увеличении объемов производства VC растет; 3) почему кривая TC имеет такой же наклон, как и кривая VC ?

Вариант 27

1. Эластичность спроса по доходу.
2. Основные характеристики монополистического рынка.
3. Определите, верно или неверно каждое из следующих утверждений и объясните ответ:

1) избыток потребителя - это сумма денег, которую потребители платят за товар;

2) полезность измеряется в единицах блага;

3) в долгосрочном периоде все издержки являются переменными;

4) при монополистической конкуренции на рынке наблюдается большая численность продавцов;

5) норма ссудного процента - это разница между суммой денег, которая возвращается, и одолженной.

4. Выполните графоаналитического упражнения.

Функция спроса на микроавтобусы имеет вид: $Q_d = 500 - p$, функция предложения: $Q_s = 2p - 100$. Определите аналитически и покажите графически равновесную цену (тыс. грн.) И равновесное количество товара (тыс. шт.). Какими будут равновесные цена и количество микроавтобусов, если правительство предоставит их производителям субсидию в размере 75 тыс. грн. на единицу товара? Какие изменения произойдут на графике?

Вариант 28

1. Ценовая эластичность спроса и совокупная выручка производителя.
2. Особенности рынка монополистической конкуренции.
3. Определите, верно или неверно каждое из следующих утверждений и объясните ответ:

1) «Потолок цены» - это цена, превышающая равновесную цену;

2) кривые безразличия имеют отрицательный наклон;

3) совокупные расходы можно вычислить по формуле $Q \cdot ATC$, где ATC - средние совокупные расходы, а Q - объем производства;

4) на рынках монополистической конкуренции продаётся однородная стандартизированная продукция;

5) на рынке финансового капитала товаром выступает физический капитал.

4. Выполните графоаналитического упражнения.

Заполните таблицу:

Q	FC	VC	TC	MC	AFC	AVC	ATC
0	60	0					
1		32					
2		56					
3		74					
4		94					
5		118					

Постройте кривые AFC, AVC, ATC и MC на одном графике. Ответьте, что происходит с кривыми: 1) AFC, когда объемы производства растут; 2) AVC, когда объемы производства растут; 3) ATC, когда объемы производства растут; 4) MC, когда объемы производства растут; 5) в каких точках предельные издержки пересекают кривые AVC и ATC?

Вариант 29

1. Парадокс Гиффена.
2. Ценообразование на рынке монополистической конкуренции.
3. Определите, верно или неверно каждое из следующих утверждений и объясните ответ:
 - 1) «Пол» цены представляет самую высокую цену, выше которой производитель не должен продавать свою продукцию;
 - 2) предельная норма замещения представляет собой соотношение общих полезностей;
 - 3) бухгалтерские затраты делятся на накладные расходы и амортизацию;
 - 4) в условиях монополистической конкуренции объем используемого капитала не является барьером входа в отрасль;
 - 5) можно ожидать, что сокращение спроса на продукт приведет к росту цен на другие продукты, которые производятся из данного ресурса.
4. Выполните графоаналитического упражнение.
Функция спроса имеет вид: $Q_d = 200 - 0,5P$, функция предложения: $Q_s = 2p - 50$. Рассчитайте параметры рыночного равновесия (цена - грн., Объем - тыс. шт.). Нарисуйте графическую модель рыночного равновесия. Нарисуйте новые графики спроса и предложения, которые отражали бы такие события:

- 1) реклама данного товара;
- 2) сокращение доходов потребителей при условии, что товар нормальный;
- 3) возрастет цена на товар-заменитель.

Вариант 30

1. Правило минимизации издержек и правило максимизации прибыли при использовании ресурсов.
2. Олигополистический рынок.
3. Определите, верно или неверно каждое из следующих утверждений и объясните ответ:

1) следствием установления цены «пола» является дефицит товара на рынке;

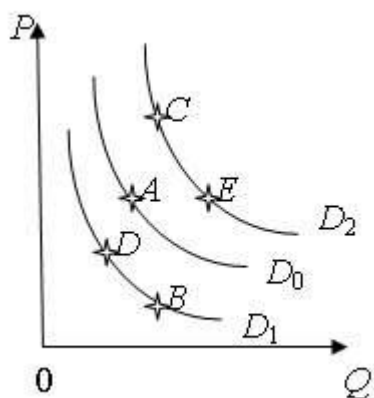
2) наклон кривой безразличия характеризует норму, в соответствии с которой одно благо может быть замещено другим без изменения уровня полезности для потребителя;

3) бухгалтерские расходы - это расходы в денежной форме на производство продукции;

4) патенты и лицензии можно отнести к барьерам входа в отрасль на рынке монополистической конкуренции;

5) под Паретто-оптимальным понимается такое состояние экономики, изменение которого приводит к увеличению благосостояния всех индивидов.

4. Выполните графоаналитическое упражнение.



На рисунке изображены кривые спроса. Предположим, что начальный выбор покупателя соответствует точке A . Объясните, в какую точку переместится покупатель из точки A : 1) если цена на данный товар возрастет? Как называется это движение? 2) если вырастет цена на товар-заменитель; 3) если вырастет цена на взаимодополняемый товар? Как называется это движение? 4) чем вызвано движение покупателя из точки A в точку B ? Каковы его последствия? 5) чем вызвано движение с точки A в точку C ? Каковы его последствия?

ОБЩИЕ ТРЕБОВАНИЯ К СОДЕРЖАНИЮ И ОФОРМЛЕНИЮ КОНТРОЛЬНЫХ РАБОТ

По каждой из изученных дисциплин в соответствии с учебным планом студент должен выполнить одну контрольную работу. Главная ее цель – проверка самостоятельной работы студентов по изучению дисциплины, выяснение степени освоения ими теоретических положений курса.

Номер контрольной работы определяется по порядковому номеру фамилии студента в списке группы.

Приступая к выполнению контрольной работы, студент должен глубоко изучить данную тему в учебной литературе, подобрать соответствующий статистический, фактический материал, используя данные, изложенные в экономических журналах и газетах (например, «Экономика Украины», «Бизнес», «Деловая Украина» и др.).

Общий объем работы должен составлять примерно 24 страницы формата А4, шрифт Times New Roman 14, интервал 1,5, поля верхнее и нижнее 2 см, левое 3см, правое 1,5.

Структура контрольной работы должна иметь такую последовательность:

- титульный лист;
- содержание (простой или развернутый план);
- введение;
- основная часть;
- заключение;
- литература;
- приложения (если они есть).

Введение должно занимать 1-2 страницы текста. В этой части работы обосновывается актуальность темы с точки зрения теоретической экономики и практики хозяйствования, современное состояние рассматриваемого вопроса, иногда исторический аспект проблемы.

В основной части работы освещаются ключевые вопросы темы. Объем основной части составляет 20-22 страницы. Здесь необходимо рассмотреть базовые экономические категории и понятия темы; сделать сравнительный анализ различных точек зрения по исследуемой проблематике и обосновать свою; изложить исследуемую тему во всей полноте с использованием статистического и фактического материала. В развернутом плане эта часть работы делится на разделы и подразделы, которые должны иметь наименования.

Заключение содержит выводы по всем основным вопросам темы, которые излагались в работе. Они должны быть лаконичными, четкими и содержать в себе ответы на задачи работы, сформулированные во введении. Объем заключения – 1-3 страницы.

Литература – это перечень используемых источников информации: монографий, статей, правовых документов, статистических данных.

Источники информации записываются в алфавитном порядке, сначала отечественные издания, а потом – иностранные. Все источники в перечне

литературы нумеруются и включают следующие сведения: фамилии и инициалы авторов; заглавие; место издания; издательство; год издания.

В приложение могут быть вынесены графики, таблицы, схемы, выдержки из документов. В основном тексте должны быть ссылки на приложения. Приложения имеют буквенные обозначения (Приложение А, Приложение Б) и наименование.

ПРИЛОЖЕНИЕ А. Образец титульного листа контрольной работы

Министерство образования и науки Украины

Национальный технический университет
«Харьковский политехнический институт»

Кафедра общей экономической теории

Экономическая теория

Контрольная работа

на тему _____

Проверил(а)

фамилия, имя, отчество

ученая степень, звание

оценка, подпись

Выполнил(а)

фамилия, имя, отчество

студент(ка), факультет, курс

группа, специальность

номер зачетной книжки

Харьков 2015

ПРИЛОЖЕНИЕ Б. Примеры библиографического описания источников информации

В.1. Описание источников информации состоит из элементов, составляющих сведения о нем.

В.1.1. Сведения о книгах должны включать: фамилию (в именительном падеже) и инициалы автора; заглавие книги; назначение книги; наименование учреждения, опубликовавшего книгу; место издания; издательство; год издания; общий объем в страницах.

Примеры:

1. Бьюкенен Дж. Сочинения. Пер. с англ. Серия: «Нобелевские лауреаты по экономике». Т.1./Фонд экономической инициативы. Гл.ред.кол.: Нуриев Р.М. и др./ - М.: «Таурус Альфа», 1997. – 560 с.
2. Бланк И.А. Словарь-справочник финансового менеджера. – К.: «Ника-центр», 1998. – 480 с.
3. Макконнелл К., Брю С. Аналітична економія. Принципи, проблеми і політика. Ч.1. Макроекономіка/ Пер. с англ. – Львів: Просвіта, 1997. – 671 с.
4. Трансформація моделі економіки України (ідеологія, протиріччя, перспективи). Інститут економічного прогнозування: за редакцією акад. НАН України В.М.Гейця. – К.: Логос, 1999. – 500 с.
5. Статистичний щорічник України за 1997р. – К.: Українська енциклопедія, 1998. – 415 с.
6. Barr N. The Economics of the Welfare State. – London: Weidenfeld and Nicolson, 1991. – 495 p.

В.1.2. Сведения о части произведения (например, статья в сборнике) должны включать фамилию, инициалы автора и заголовок составной части. Далее идут сведения о произведении, в котором помещена составная часть; страницы, на которых она помещена.

Пример:

1. Коуз Р. Природа фирмы // Коуз Р. Фирма, рынок и право. Пер. с англ. - М.: Дело, 1993.-С.33-53.

В.1.3. Сведения о статье должны включать: фамилию и имя авторов; заглавие статьи; наименование газеты, журнала, сборника; место издания (для сборников); год издания; число и месяц (для газет); сведения о серии (если она имеется); номер, выпуск, том (для журналов, сборников); страницы, на которых помещена статья (кроме газет объемом до 6 страниц).

Примеры:

1. Архиреев С. Деформации конкуренции как фактор инфляции // Бизнес Информ. – 1998. - №12. – С.19-23.
2. Галуза С., Гурова К., Умови та перешкоди для іноземного інвестування і спільного підприємництва в Україні // Вісник ХДУ. – 1999. - №446. – С.212-219.
3. П'ятаченко Г. Економічна модель потребує наукового забезпечення // Урядовий кур'єр. – 1998. – 3 грудня. - №231. – С.13.